

شماره 1: پیمانہ نمره 1 و 2 کے لیے خریدی گئی چیزیں

(A)AB/2018/16	پیمانہ نمره 1
28 اگست 2018	پیمانہ نمره 2
پیمانہ نمره 1 کے لیے 14,000 ڈالرز کی قیمت پر 10,000 ڈالرز کی قیمت پر 1000 ڈالرز کی قیمت پر 550 ڈالرز کی قیمت پر 1000 ڈالرز کی قیمت پر 1000 ڈالرز کی قیمت پر	پیمانہ نمره 3
پیمانہ نمره 1 کے لیے 14,000 ڈالرز کی قیمت پر 10,000 ڈالرز کی قیمت پر 1000 ڈالرز کی قیمت پر 550 ڈالرز کی قیمت پر 1000 ڈالرز کی قیمت پر 1000 ڈالرز کی قیمت پر	پیمانہ نمره 4

موضوع	پیمانہ نمره
پیمانہ نمره 1	1
پیمانہ نمره 1 کے لیے 14,000 ڈالرز کی قیمت پر 10,000 ڈالرز کی قیمت پر 1000 ڈالرز کی قیمت پر 550 ڈالرز کی قیمت پر 1000 ڈالرز کی قیمت پر 1000 ڈالرز کی قیمت پر procurement@elections.gov.mv	1.1
پیمانہ نمره 1 کے لیے 14,000 ڈالرز کی قیمت پر 10,000 ڈالرز کی قیمت پر 1000 ڈالرز کی قیمت پر 550 ڈالرز کی قیمت پر 1000 ڈالرز کی قیمت پر 1000 ڈالرز کی قیمت پر 08 اگست 2018 14:00	1.2
پیمانہ نمره 2	2
پیمانہ نمره 2 کے لیے 14,000 ڈالرز کی قیمت پر 10,000 ڈالرز کی قیمت پر 1000 ڈالرز کی قیمت پر 550 ڈالرز کی قیمت پر 1000 ڈالرز کی قیمت پر 1000 ڈالرز کی قیمت پر	2.1
پیمانہ نمره 2 کے لیے 14,000 ڈالرز کی قیمت پر 10,000 ڈالرز کی قیمت پر 1000 ڈالرز کی قیمت پر 550 ڈالرز کی قیمت پر 1000 ڈالرز کی قیمت پر 1000 ڈالرز کی قیمت پر	2.2
پیمانہ نمره 2 کے لیے 14,000 ڈالرز کی قیمت پر 10,000 ڈالرز کی قیمت پر 1000 ڈالرز کی قیمت پر 550 ڈالرز کی قیمت پر 1000 ڈالرز کی قیمت پر 1000 ڈالرز کی قیمت پر	2.3
پیمانہ نمره 3	3
پیمانہ نمره 3 کے لیے 14,000 ڈالرز کی قیمت پر 10,000 ڈالرز کی قیمت پر 1000 ڈالرز کی قیمت پر 550 ڈالرز کی قیمت پر 1000 ڈالرز کی قیمت پر 1000 ڈالرز کی قیمت پر	3.1

پیمانہ نمره 1 کے لیے 14,000 ڈالرز کی قیمت پر 10,000 ڈالرز کی قیمت پر 1000 ڈالرز کی قیمت پر 550 ڈالرز کی قیمت پر 1000 ڈالرز کی قیمت پر 1000 ڈالرز کی قیمت پر



3.2	<p>۱۵,۰۰۰.۰۰ (پندرہ سو سو) روپے کے لئے سہ ماہی کے لئے 5</p> <p>۱۲۰</p>
3.3	<p>۳.۲ کے لئے سہ ماہی کے لئے 3.2 کے لئے</p>
3.4	<p>۳.۴ کے لئے سہ ماہی کے لئے</p>
4	<p>چھ ماہ کے لئے</p>
4.1	<p>۴.۱ کے لئے سہ ماہی کے لئے</p>
4.2	<p>۴.۲ کے لئے سہ ماہی کے لئے</p>
4.3	<p>۴.۳ کے لئے سہ ماہی کے لئے</p>
4.4	<p>۴.۴ کے لئے سہ ماہی کے لئے</p>
4.5	<p>۴.۵ کے لئے سہ ماہی کے لئے</p>
4.6	<p>۴.۶ کے لئے سہ ماہی کے لئے</p>
4.7	<p>۴.۷ کے لئے سہ ماہی کے لئے</p>



4.8	چۆكۈرگە ئىگىلىك ھوقۇقىنىڭ ئىشلىتىلىشى، ئۆزگەرتىلىشى، ئىشلىتىلىشى ۋە ئۆزگەرتىلىشى ھوقۇقىنىڭ ئىشلىتىلىشى.
4.9	چۆكۈرگە ئىگىلىك ھوقۇقىنىڭ ئىشلىتىلىشى، ئۆزگەرتىلىشى، ئىشلىتىلىشى ۋە ئۆزگەرتىلىشى ھوقۇقىنىڭ ئىشلىتىلىشى (بۇ ھوقۇقنىڭ ئىشلىتىلىشى، ئۆزگەرتىلىشى، ئىشلىتىلىشى ۋە ئۆزگەرتىلىشى ھوقۇقىنىڭ ئىشلىتىلىشى).
4.10	ئىشلىتىش ھوقۇقىنىڭ ئىشلىتىلىشى، ئۆزگەرتىلىشى، ئىشلىتىلىشى ۋە ئۆزگەرتىلىشى ھوقۇقىنىڭ ئىشلىتىلىشى.
5	چۆكۈرگە ئىگىلىك ھوقۇقىنىڭ ئىشلىتىلىشى
5.1	<ul style="list-style-type: none">• چۆكۈرگە ئىگىلىك ھوقۇقىنىڭ ئىشلىتىلىشى• چۆكۈرگە ئىگىلىك ھوقۇقىنىڭ ئىشلىتىلىشى• چۆكۈرگە ئىگىلىك ھوقۇقىنىڭ ئىشلىتىلىشى• چۆكۈرگە ئىگىلىك ھوقۇقىنىڭ ئىشلىتىلىشى• چۆكۈرگە ئىگىلىك ھوقۇقىنىڭ ئىشلىتىلىشى• چۆكۈرگە ئىگىلىك ھوقۇقىنىڭ ئىشلىتىلىشى
6	چۆكۈرگە ئىگىلىك ھوقۇقىنىڭ ئىشلىتىلىشى
6.1	چۆكۈرگە ئىگىلىك ھوقۇقىنىڭ ئىشلىتىلىشى، ئۆزگەرتىلىشى، ئىشلىتىلىشى ۋە ئۆزگەرتىلىشى ھوقۇقىنىڭ ئىشلىتىلىشى 5%.
7	چۆكۈرگە ئىگىلىك ھوقۇقىنىڭ ئىشلىتىلىشى
7.1	چۆكۈرگە ئىگىلىك ھوقۇقىنىڭ ئىشلىتىلىشى، ئۆزگەرتىلىشى، ئىشلىتىلىشى ۋە ئۆزگەرتىلىشى ھوقۇقىنىڭ ئىشلىتىلىشى 45% (بۇ ھوقۇقنىڭ ئىشلىتىلىشى، ئۆزگەرتىلىشى، ئىشلىتىلىشى ۋە ئۆزگەرتىلىشى ھوقۇقىنىڭ ئىشلىتىلىشى) ۋە 15% (بۇ ھوقۇقنىڭ ئىشلىتىلىشى، ئۆزگەرتىلىشى، ئىشلىتىلىشى ۋە ئۆزگەرتىلىشى ھوقۇقىنىڭ ئىشلىتىلىشى).
8	چۆكۈرگە ئىگىلىك ھوقۇقىنىڭ ئىشلىتىلىشى
8.1	چۆكۈرگە ئىگىلىك ھوقۇقىنىڭ ئىشلىتىلىشى، ئۆزگەرتىلىشى، ئىشلىتىلىشى ۋە ئۆزگەرتىلىشى ھوقۇقىنىڭ ئىشلىتىلىشى.



سوال نمبر 2- ریڈنگ ٹیسٹ کے لیے تیار رہیں



1	<p>تشریح کیسے کریں</p> <ul style="list-style-type: none"> • پوسٹر ڈیزائن اور متن کو درست طور پر سمجھنے کے لیے دیکھیں • پوسٹر کے متن کو درست طور پر سمجھنے کے لیے دیکھیں
2	<p>سوال پڑھیں</p> <ul style="list-style-type: none"> • سوال پڑھیں اور جواب دیں
3	<p>دراستی پڑھیں اور جواب دیں</p> <ul style="list-style-type: none"> • پوسٹر کے متن کو درست طور پر سمجھنے کے لیے دیکھیں اور جواب دیں (دراستی پڑھیں اور جواب دیں اور پوسٹر کے متن کو درست طور پر سمجھنے کے لیے دیکھیں اور جواب دیں) دراستی پڑھیں اور جواب دیں اور پوسٹر کے متن کو درست طور پر سمجھنے کے لیے دیکھیں اور جواب دیں
4	<p>دراستی پڑھیں اور جواب دیں</p> <ul style="list-style-type: none"> • پوسٹر کے متن کو درست طور پر سمجھنے کے لیے دیکھیں اور جواب دیں • پوسٹر کے متن کو درست طور پر سمجھنے کے لیے دیکھیں اور جواب دیں • پوسٹر کے متن کو درست طور پر سمجھنے کے لیے دیکھیں اور جواب دیں
5	<p>سوال پڑھیں</p> <ul style="list-style-type: none"> • سوال پڑھیں اور جواب دیں (پوسٹر کے متن کو درست طور پر سمجھنے کے لیے دیکھیں اور جواب دیں)



ސަލާމަތީ ޖަދުވަލު (ބަލަންދު ޖަދުވަލުގެ ޖަދުވަލު)

- ޖަދުވަލުގެ ދަށުން
- ބަލަންދު ޖަދުވަލު
- ޖަދުވަލުގެ ބަލަންދު
- ސަލާމަތީ ޖަދުވަލު
- ފޮޓޯ ޖަދުވަލު
- ޖަދުވަލުގެ ބަލަންދު
- ސަލާމަތީ ޖަދުވަލުގެ ބަލަންދު
- ޖަދުވަލުގެ ބަލަންދު 100 ޖަދުވަލުގެ ބަލަންދު ޖަދުވަލުގެ ބަލަންދު.
- (ELECTIONS COMMISSION, REPUBLIC OF MALDIVES) ޖަދުވަލުގެ ބަލަންދު ޖަދުވަލުގެ ބަލަންދު
- ސަލާމަތީ ޖަދުވަލުގެ ބަލަންދު ޖަދުވަލުގެ ބަލަންދު ޖަދުވަލުގެ ބަލަންދު 40pt ޖަދުވަލުގެ ބަލަންދު ޖަދުވަލުގެ ބަލަންދު ޖަދުވަލުގެ ބަލަންދު.

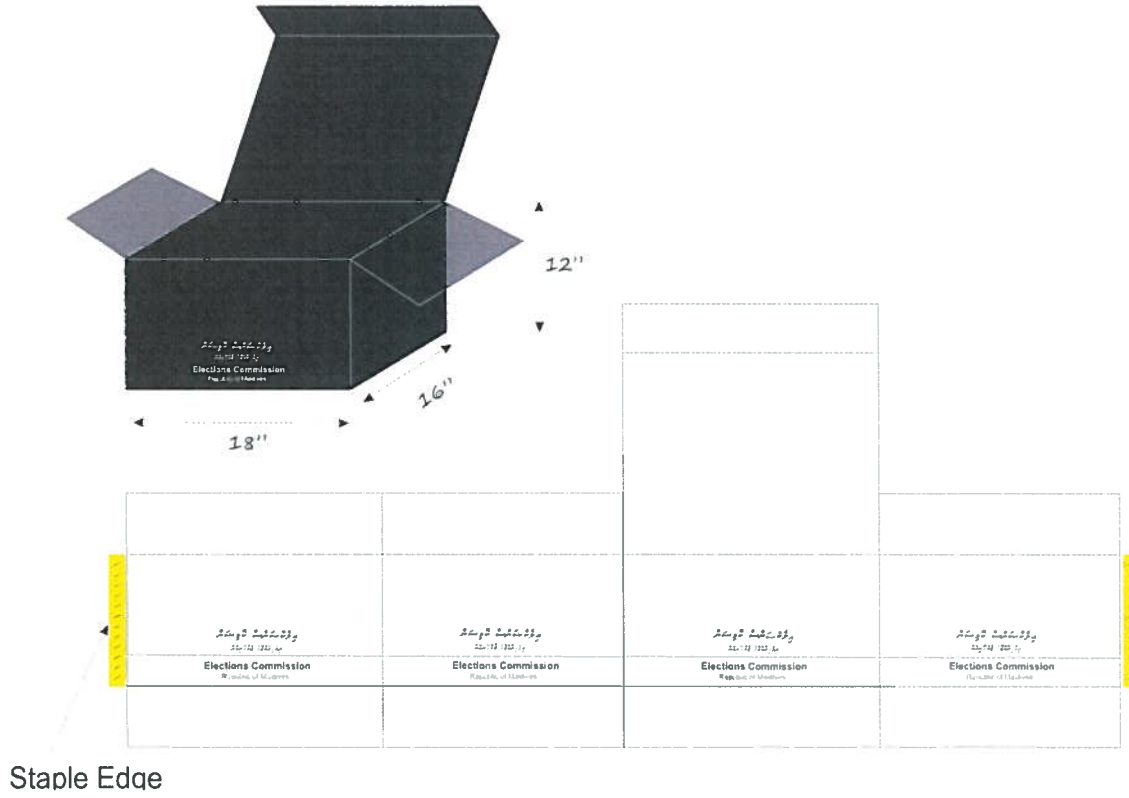
ޖަދުވަލުގެ ބަލަންދު ޖަދުވަލުގެ ބަލަންދު ޖަދުވަލުގެ ބަލަންދު.



تعمیراتی ڈیٹا کی فہرست

- کل ڈیٹا کی تعداد: 1,000
- ڈیٹا کی فہرست: 18 اینٹیک
- ڈیٹا کی فہرست: 16 اینٹیک
- ڈیٹا کی فہرست: 12 اینٹیک
- ڈیٹا کی فہرست: 5 ڈیٹا کی فہرست
- ڈیٹا کی فہرست: 10 ڈیٹا کی فہرست (k100)
- ڈیٹا کی فہرست: 4 ڈیٹا کی فہرست

ڈیٹا کی فہرست 4 ڈیٹا کی فہرست اور ڈیٹا کی فہرست 10 ڈیٹا کی فہرست اور ڈیٹا کی فہرست 5 ڈیٹا کی فہرست اور ڈیٹا کی فہرست 12 ڈیٹا کی فہرست اور ڈیٹا کی فہرست 16 ڈیٹا کی فہرست اور ڈیٹا کی فہرست 18 ڈیٹا کی فہرست اور ڈیٹا کی فہرست 1,000 ڈیٹا کی فہرست



مذمت ۱۰۰۰ پرکیرجہ کارڈ لائٹ ڈیزائن

1. Type: Handheld Rechargeable Flood Light
2. Voltage: 220-240v
3. Wattage: 20W
4. Light Source: LED
5. Operation Time: 6 Hours (Low) & 3 Hours (High)
6. Color: Black or Grey



سوال نمبر 3: تشریح کریں کہ

مکتبہ کی بنیادیں اور اس کی اہمیت کی وضاحت کریں۔

		<p>مکتبہ کی بنیادیں اور اس کی اہمیت کی وضاحت کریں۔</p>
		<p>مکتبہ کی بنیادیں اور اس کی اہمیت کی وضاحت کریں۔</p>
	<p>مکتبہ کی بنیادیں اور اس کی اہمیت کی وضاحت کریں۔</p>	<p>مکتبہ کی بنیادیں اور اس کی اہمیت کی وضاحت کریں۔</p>
	<p>مکتبہ کی بنیادیں اور اس کی اہمیت کی وضاحت کریں۔</p>	<p>مکتبہ کی بنیادیں اور اس کی اہمیت کی وضاحت کریں۔</p>



مذمتنامہ: 1

ذمت نامہ (مذمت نامہ کی تفصیل)	مقدار	تاریخ	#
ذمت نامہ (مذمت نامہ کی تفصیل)	14,000		1
ذمت نامہ (مذمت نامہ کی تفصیل)	10,000		2
ذمت نامہ (مذمت نامہ کی تفصیل)	1,000		3
ذمت نامہ (مذمت نامہ کی تفصیل)	550		4
مجموعہ			



مذمت نامہ کی تصدیق کے لیے 22 ستمبر 2012ء کو جاری شدہ نوٹس نمبر 12

2: نۇسخە

- نۇسخەنىڭ سىزگە بېرىلگەن نۇسخەسىنىڭ ئىسمىنى ئۆزگەرتىڭىز
- نۇسخەنىڭ سىزگە بېرىلگەن نۇسخەسىنىڭ ئىسمىنى ئۆزگەرتىڭىز



ژباړه: 3

- چېرته چې وپلورېدې، مېرمنه چې نېرې وږې ومانه، زړه یې تر ښوې وړانجې ټاپې
- چې ژبه یې مېرمنه مېرمنه ټاپې



سەرلەككەن 5: سەئۇدى ئەرەب ئامىراتىدىكى مەدەنىيەت كەڭەيىتىش ئىنقىلابى

دەرىجىسى ئۆسۈپ بارىۋاتقان 6.2 نەمبەردە ئۆزگەرتىش ئىنقىلابى سەئۇدى ئەرەب ئامىراتىدا ئۆزگەرتىش ئىنقىلابىنى ئۆز ئىچىگە ئالىدۇ. ئۇ سەئۇدى ئەرەب ئامىراتىدا مەدەنىيەت كەڭەيىتىش ئىنقىلابىنى ئۆز ئىچىگە ئالىدۇ. (پەنھەلەكەت ئىنقىلابىنى ئۆز ئىچىگە ئالىدۇ) ئۇ ئىنقىلابىنى ئۆز ئىچىگە ئالىدۇ. ئۇ سەئۇدى ئەرەب ئامىراتىدا مەدەنىيەت كەڭەيىتىش ئىنقىلابىنى ئۆز ئىچىگە ئالىدۇ. 6.2 نەمبەردە ئۆزگەرتىش ئىنقىلابى سەئۇدى ئەرەب ئامىراتىدا مەدەنىيەت كەڭەيىتىش ئىنقىلابىنى ئۆز ئىچىگە ئالىدۇ. 120 ئۆزگەرتىش ئىنقىلابىنى ئۆز ئىچىگە ئالىدۇ. 6.2 نەمبەردە ئۆزگەرتىش ئىنقىلابى سەئۇدى ئەرەب ئامىراتىدا مەدەنىيەت كەڭەيىتىش ئىنقىلابىنى ئۆز ئىچىگە ئالىدۇ.



(BID SECURITY FORM)

Bank Guarantee

.....*Bank's name, and address of issuing branch or office*.....¹

Beneficiary: *Name and address of the employer*

Date:

Bid Security No.:

We have been informed that *name of the bidder*. (hereinafter called "the Bidder") has submitted to you its bid dated (hereinafter called "the Bid") for the execution of
. . . *name of contract* under Invitation for Bids No. ("the IFB").

Furthermore, we understand that, according to your conditions, bids must be supported by a bid guarantee.

At the request of the Bidder, we *name of Bank*. hereby irrevocably undertake to pay you any sum or sums not exceeding in total an amount of *amount in words* (.
amount in figures) upon receipt by us of your first demand in writing accompanied by a written statement stating that the Bidder is in breach of its obligation(s) under the bid conditions, because the Bidder

- (a) has withdrawn its Bid during the period of bid validity specified by the Bidder in the Letter of Bid; or
- (b) does not accept the correction of errors in accordance with the Instructions to Bidders (hereinafter "the ITB"); or
- (c) having been notified of the acceptance of its Bid by the Employer during the period of bid validity, (i) fails or refuses to execute the Contract Agreement, or (ii) fails or refuses to furnish the Performance Security, in accordance with the ITB.

This guarantee will expire (a) if the Bidder is the successful Bidder, upon our receipt of copies of the Contract Agreement signed by the Bidder and the Performance Security issued to you upon the instruction of the Bidder; or (b) if the Bidder is not the successful Bidder, upon the earlier of (i) our receipt of a copy of your notification to the Bidder of the name of the successful Bidder, or (ii) 28 days after the expiration of the Bidder's bid.

Consequently, any demand for payment under this guarantee must be received by us at the office on or before that date.

This guarantee is subject to the Uniform Rules for Demand Guarantees, ICC Publication No. 458.²

..... *Authorized signature(s) and bank's seal (where appropriate)*

Note

In case of a joint venture, the bid security must be in the name of all partners to the joint venture that submits the bid.



All italicized text is for use in preparing this form and shall be deleted from the final document.

٢٠١٧ سوري ٢٢ ربيع الثاني ١٧ سوري ١٧ سوري

نشرنامہ: 4

• سید سہیل احمدی کی تقریبی سیرت



سہ ماہیہ 7: قریبی میں (3) درجہ تعلیمی تاریخوں کی قیاسی و سہ ماہیہ

یہ ماہیہ 7: قریبی میں (3) درجہ تعلیمی تاریخوں کی قیاسی و سہ ماہیہ کی طرف سے تیار کی گئی ہے اور اسے تسلیم کرنے کے لیے اسے تسلیم کرنے والی ایجنسیوں کو پیش کرنا ضروری ہے۔ اس ماہیہ کی سہ ماہیہ کی طرف سے تیار کی گئی ہے اور اسے تسلیم کرنے کے لیے اسے تسلیم کرنے والی ایجنسیوں کو پیش کرنا ضروری ہے۔

سہ ماہیہ کی رقم	سہ ماہیہ کی تعلیمی تاریخوں	سہ ماہیہ کی سرچ	#



نہتر ناسو: 5

• صوچے برہے و حریر سرکوی ناچے



وہ ناسو و ناچے سرکوی برہے 22 سہو ناسو و کو ناسو 20 و ناسو سہو ناسو

